



## TAREA 6 DE ENTEROS

Nombre: \_\_\_\_\_ Curso: 8°Básico  
Profesora : María Eugenia Díaz  
Fecha: / /2020



Correo: [tareasmatematicajbd@gmail.com](mailto:tareasmatematicajbd@gmail.com)

Objetivo : Identificar número entero incógnito , utilizando las cuatro operaciones en  $Z$ .

### INSTRUCCIONES :

- 1) Desarrollar todas las tareas (con fecha y con número de tarea) en cuaderno de matemática. Si es posible la imprime y la desarrolla en la misma guía .
- 2) La respuesta final de cada pregunta enviarla en este mismo formato a la profesora. (No olvidar el número de tarea y su nombre al enviarlo)
- 3) Si tiene algún problema para enviar respuestas por internet , puede realizar todas las actividades sólo en cuaderno o en guía impresa y a la vuelta de clases entrega cuaderno o carpeta a la profesora.
- 4) Espero que puedas cumplir con el plazo de envío (1 semana), de ésta manera no te atrasas tú ni yo (Así puedo revisar desde casa yo también ).

Antes de iniciar actividad abrir link

<https://www.youtube.com/watch?v=cMyhpkDVO1c>

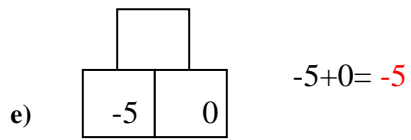
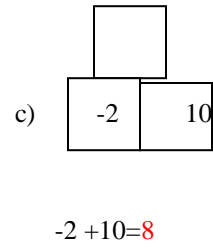
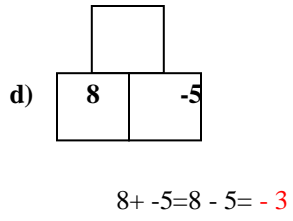
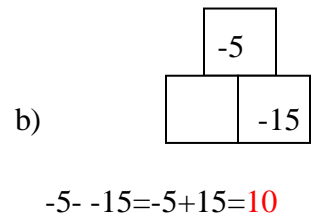
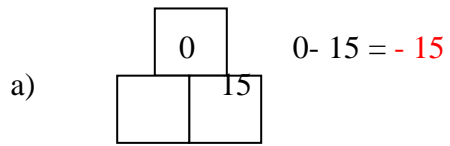
### RECUERDA

- a) Al sumar dos números enteros de igual signo , éstos se suman y se conserva el signo que tienen.
- b) Al sumar dos enteros de distinto signo , éstos se restan y se conserva el signo del mayor.

1)

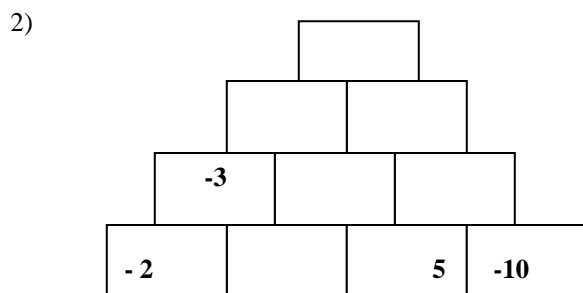
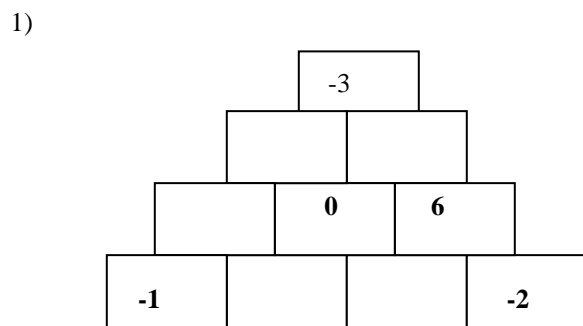
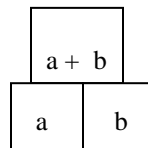
		-2		
	3		-5	
8		-5		0
-2	10		-15	15





**COMPLETA AHORA LAS SIGUIENTES PIRÁMIDES**

Aplica la regla



3)

