



## Matemática 5° Básico

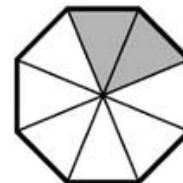
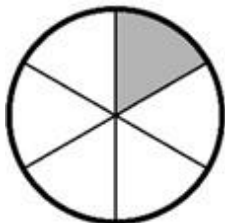
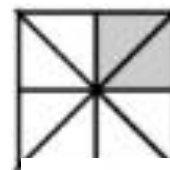
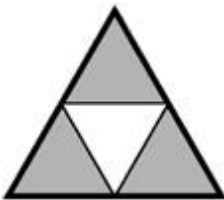



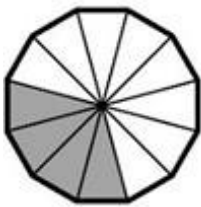
### Semana 14

**Objetivo:** Representar fracciones de manera pictórica y simbólica.

¡Hola queridos estudiantes!!, espero se encuentren bien y les agradezco por estar enviando sus actividades.  
Les dejo un nuevo video explicando la guía de esta semana:  
<https://youtu.be/6pggoOcqUjY>



I. Identifica en cada caso la fracción propia representada.



II. Representa gráficamente las siguientes fracciones y crea una situación de la vida cotidiana que puede ser representada por ellas.



$\frac{2}{7}$

$\frac{4}{8}$

$\frac{1}{5}$


$\frac{1}{8}$

$\frac{2}{7}$

$\frac{1}{5}$

Situación de la vida cotidiana

III. Pinta la cantidad indicada en cada caso.



$\frac{1}{4}$



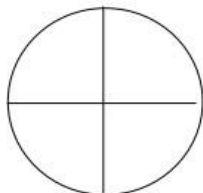
$\frac{1}{2}$



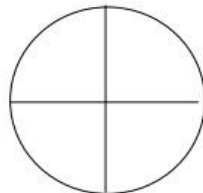
$\frac{1}{3}$



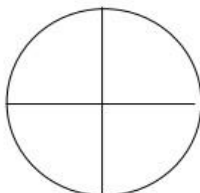
$\frac{1}{2}$



$\frac{1}{2}$



$\frac{1}{4}$



$\frac{3}{4}$




$\frac{1}{3}$

IV. Une con una line la fracción y su representación gráfica.



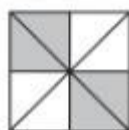
$$\frac{3}{8}$$




$$\frac{1}{6}$$



$$\frac{4}{6}$$



$$\frac{1}{3}$$




$$\frac{3}{8}$$



$$\frac{10}{12}$$



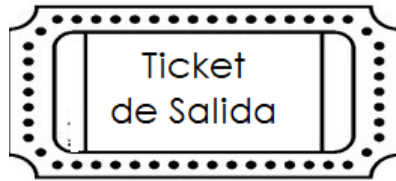
$$\frac{3}{4}$$




$$\frac{5}{12}$$



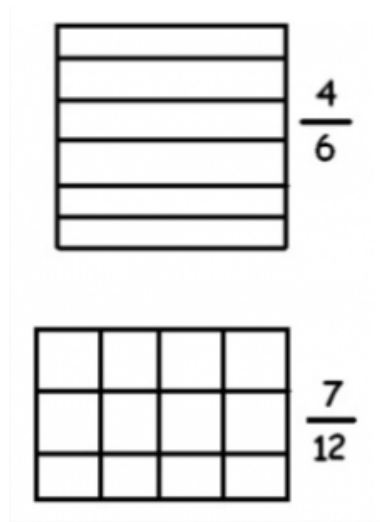
$$\frac{4}{16}$$



Señala la fracción que representa cada imagen:



Colorea la fracción señalada:



Divide las siguientes figuras y colorea según la fracción indicada:

