

RECONOCIENDO LOS TÉRMINOS DE UNA FRACCIÓN



Para leer una fracción se deben considerar sus términos de la siguiente manera:

1° Se lee el **numerador**, de acuerdo al número.

2° Se lee el **denominador**, que dependiendo del número toma los siguientes nombres.




Denominador	2	3	4	5	6	7	8	9
Se lee	Medio	Tercio	Cuarto	Quinto	Sexto	Séptimo	Octavo	Noveno

Por ejemplo: $\frac{1}{2}$ se lee un medio	$\frac{1}{4}$ se lee un cuarto	$\frac{3}{4}$ se lee tres cuartos
--	--------------------------------	-----------------------------------

1.- Escribe con palabras cada fracción

a. $\frac{3}{5}$ ▶	c. $\frac{1}{4}$ ▶
b. $\frac{2}{3}$ ▶	d. $\frac{4}{6}$ ▶

2.- Escribe la fracción mencionada en cada caso.

a. Cuatro quintos ▶ 	c. Un medio ▶ 
b. Tres cuartos ▶ 	d. Un tercio ▶ 